

FICHA 11

Nombre y apellidos:

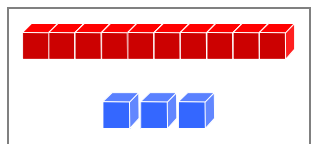
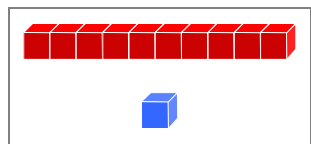
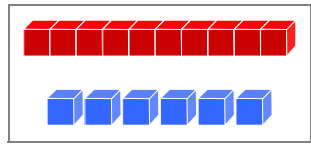
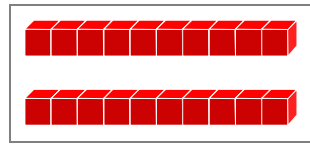
◆ Coloca y calcula.

$3 + 5$	$4 + 5$	$2 + 6$	$1 + 4$
<input type="text"/>	<input type="text"/>	<input type="text"/>	<input type="text"/>
○ <input type="text"/>	○ <input type="text"/>	○ <input type="text"/>	○ <input type="text"/>
<hr/>	<hr/>	<hr/>	<hr/>
<input type="text"/>	<input type="text"/>	<input type="text"/>	<input type="text"/>

◆ Coloca y calcula.

$8 - 2$	$6 - 3$	$7 - 1$	$15 - 3$
<input type="text"/>	<input type="text"/>	<input type="text"/>	<input type="text"/>
○ <input type="text"/>	○ <input type="text"/>	○ <input type="text"/>	○ <input type="text"/>
<hr/>	<hr/>	<hr/>	<hr/>
<input type="text"/>	<input type="text"/>	<input type="text"/>	<input type="text"/>

◆ Completa.

	+		=	<input type="text"/>
<input type="text"/>		<input type="text"/>		<input type="text"/>
<input type="text"/>	+		=	
<input type="text"/>		<input type="text"/>		<input type="text"/>